



















ビジュアルオリエンテーリング 問題

下の★が、難易度と得点（★1つ2点）を表しています。100点目指してがんばりましょう。

		
1 ★	2 ★★★★★	3 ★★
		
4 ★★★★★	5 ★★	6 ★★★★★
		
7 ★★★★★	8 ★★	9 ★★★★★★
		
10 ★	11 ★★★★★	12 ★
		
13 ★★	14 ★★★★★★	15 ★★★★★
		
16 ★★★★★	17 ★★★★★	18 ★★

作成：2024.4.1

かいとうようし しせつはいちす
解答用紙に描かれている施設配置図を見て、1～18番のある場所を考えよう。ヒントは・・・

1～5番 ⇒A～Cの枠の中 6～11番 ⇒D～Gの枠の中 12～18番 ⇒H～Kの枠の中